

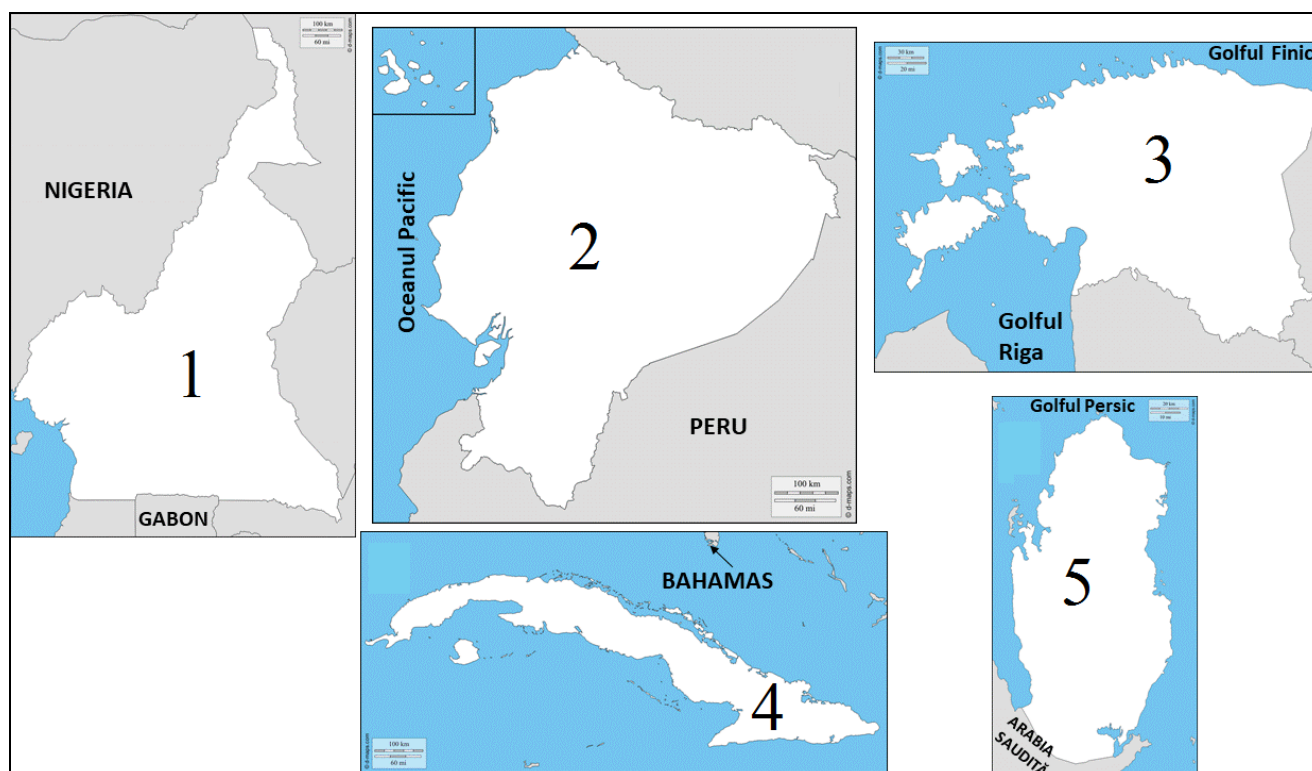
CONCURSUL ȘCOLAR DE GEOGRAFIE
ETAPA JUDEȚEANĂ/A SECTOARELOR MUNICIPIULUI BUCUREȘTI
9 martie 2019

PROBA TEORETICĂ SCRISĂ
CLASA a X-a

- Toate subiectele sunt obligatorii. Se acordă 10 puncte din oficiu.
- Timpul de lucru efectiv este de 3 ore.

Subiectul I (20 puncte)

În imaginea de mai jos sunt marcate cu numere diferite teritorii de stat.



A. Scrieți, pe foaia de concurs, răspunsurile care completează afirmațiile de mai jos.

1. Capitala statului marcat cu numărul 1 este orașul numit ...
2. Arhipelagul situat în apropierea statului marcat cu numărul 2 se numește ...
3. Limba vorbită de populația statului marcat cu numărul 3, face parte din familia limbilor ...
4. Capitala statului marcat cu numărul 4 este orașul numit ...
5. Forma de guvernământ a statului marcat cu numărul 5 este ...

10 puncte

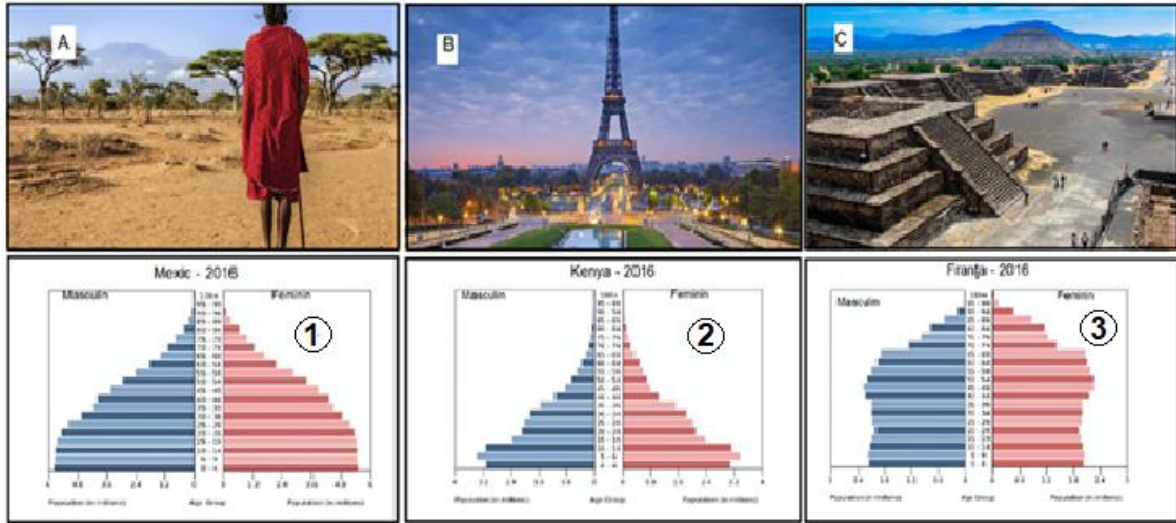
B. Citiți cu atenție afirmațiile următoare. Dacă apreciați că afirmația este adevărată scrieți, pe foaia de concurs, litera **A**, iar dacă apreciați că afirmația este falsă, scrieți litera **F**.

1. Statul marcat cu numărul 3 a făcut parte până în 1990 din RSF Yugoslavia.
2. Capitala statului marcat cu numărul 5 este Dubai.
3. Statul marcat cu numărul 4 face parte din Arhipelagul Antilele Mici.
4. Orașul-capitală a statului marcat cu numărul 2 este traversat de Ecuator.
5. Statul marcat cu numărul 1 face parte din rândul țărilor exportatoare de petrol (OPEC).

10 puncte

Subiectul II (20 puncte)

Analizați imaginile și reprezentările grafice de mai jos și răspundeți pe foaia de concurs la următoarele cerințe:



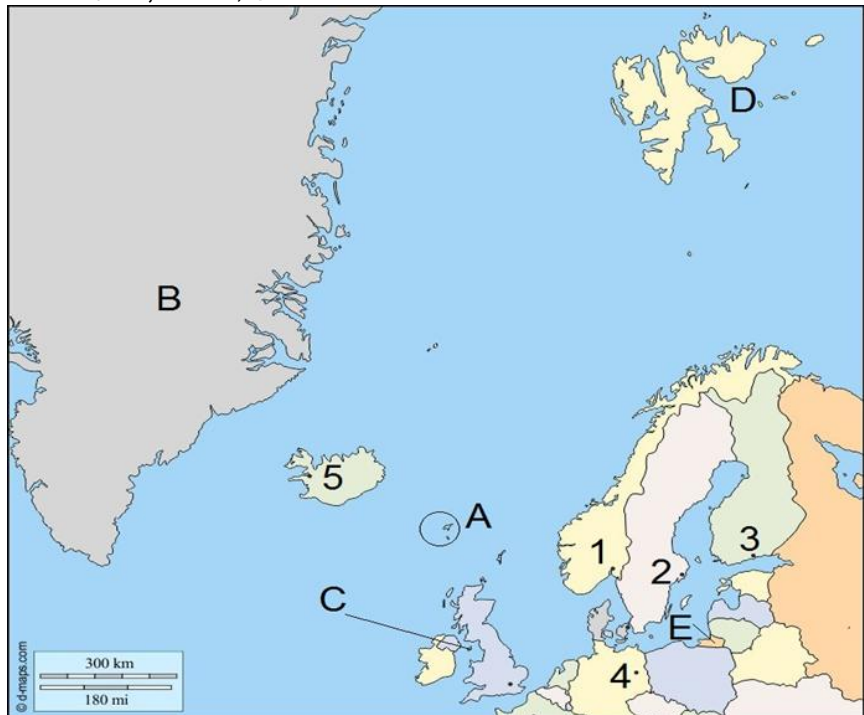
<https://www.cia.gov/library/publications/the-world-factbook/geos.html>

1. Asociați reprezentările grafice notate cu numerele 1, 2 și 3 cu imaginile marcate cu literele A, B și C;
2. Menționați tendința de evoluție numerică a populației evidențiată de forma piramidei vârștelor marcată cu numărul 3;
3. Precizați:
 - a. doi factori care au determinat forma piramidei vârștelor marcată cu numărul 2;
 - b. două consecințe socio-economice care decurg din forma piramidei vârștelor marcată cu numărul 1;
 - c. forma fiecărei piramide a vârștelor marcate cu numerele 1 și 3.

Subiectul III (15 puncte)


Analizați cu atenție harta de mai jos și scrieți pe foaia de concurs:

1. numele teritoriilor dependente marcate, pe hartă, cu litere de la A la D și denumirea statelor de care aparțin;
2. tipul de frontieră specific între statele ale căror capitale sunt marcate, pe hartă, cu numerele 1 și 2;
3. denumirea regiunii etnice și culturale situată pe teritoriul statelor ale căror capitale sunt marcate, pe hartă, cu numerele 1, 2 și 3;
4. litera cu care este marcată o exclavă a Federației Ruse, precum și numele acestei regiuni;
5. numele aglomerației urbane, de tip megalopolis, din statul a cărui capitală este marcată, pe hartă, cu numărul 4, precum și numele celui mai mare oraș - port fluvial din această aglomerație urbană;
6. o funcție economică a orașului capitală marcat, pe hartă, cu numărul 5.



Subiectul IV (20 puncte)

Imaginile de mai jos sunt reprezentative pentru două orașe foarte mari (peste 10 milioane de locuitori) situate pe continente și în emisfere diferite și în două megalopolisuri, unul asiatic și unul american. Analizați imaginile și scrieți pe foaia de concurs răspunsurile la următoarele cerințe:



1. Pentru imaginea marcată cu litera **A** precizați:

- numele orașului prezentat;
- numele megalopolisului din care face parte acest oraș;
- limba oficială a statului din care face parte acest oraș;
- forma de organizare politică internă a statului din care face parte acest oraș;
- patru probleme de amenajare urbană cu care se confruntă acest oraș;
- numele altor două orașe din megalopolisul menționat la punctul **b**.

10 puncte

2. Pentru orașul marcat cu litera **B**, precizați:

- numele orașului prezentat;
- numele megalopolisului din care face parte acest oraș;
- două religii tradiționale în statul din care face parte acest oraș;
- forma de guvernământ specifică statului din care face parte acest oraș;
- numele altor cinci orașe din megalopolisul menționat la punctul **b**.

10 puncte

Subiectul V (15 puncte)

Citiți cu atenție textul de mai jos:

„Micul stat hanseatic, situat în vestul Europei, are ca relief predominant o câmpie joasă, cu altitudini adesea sub nivelul mării. Specifice acestui stat sunt polderele, terenuri cucerite de sub apele mării și cultivate astăzi predominant cu flori”.

A. Scrieți pe foaia de concurs:

- numele statului prezentat în text;
- tipul de capitală și numele acestora;
- limba oficială vorbită de majoritatea populației din statul prezentat în text;
- denumirea megalopolisului în formare de pe teritoriul acestui stat;
- actuala grupare politico-economică de state al cărui membru fondator este statul descris în text.

B. Tabelul de mai jos prezintă indicatorii demografici specifici acestui stat pentru anul 2017.

Număr locuitori	Rata natalității	Rata mortalității	Populația urbană	Suprafața
17 151 225	10,9‰	9‰	92%	41 543 km ²

<https://www.cia.gov/library/publications/the-world-factbook/geos.html>

Scrieți pe foaia de concurs

- valoarea densității medii a populației;
- valoarea bilanțului natural (promile);
- valoarea populației rurale (valoare absolută);
- valoarea populației urbane (valoare absolută).