

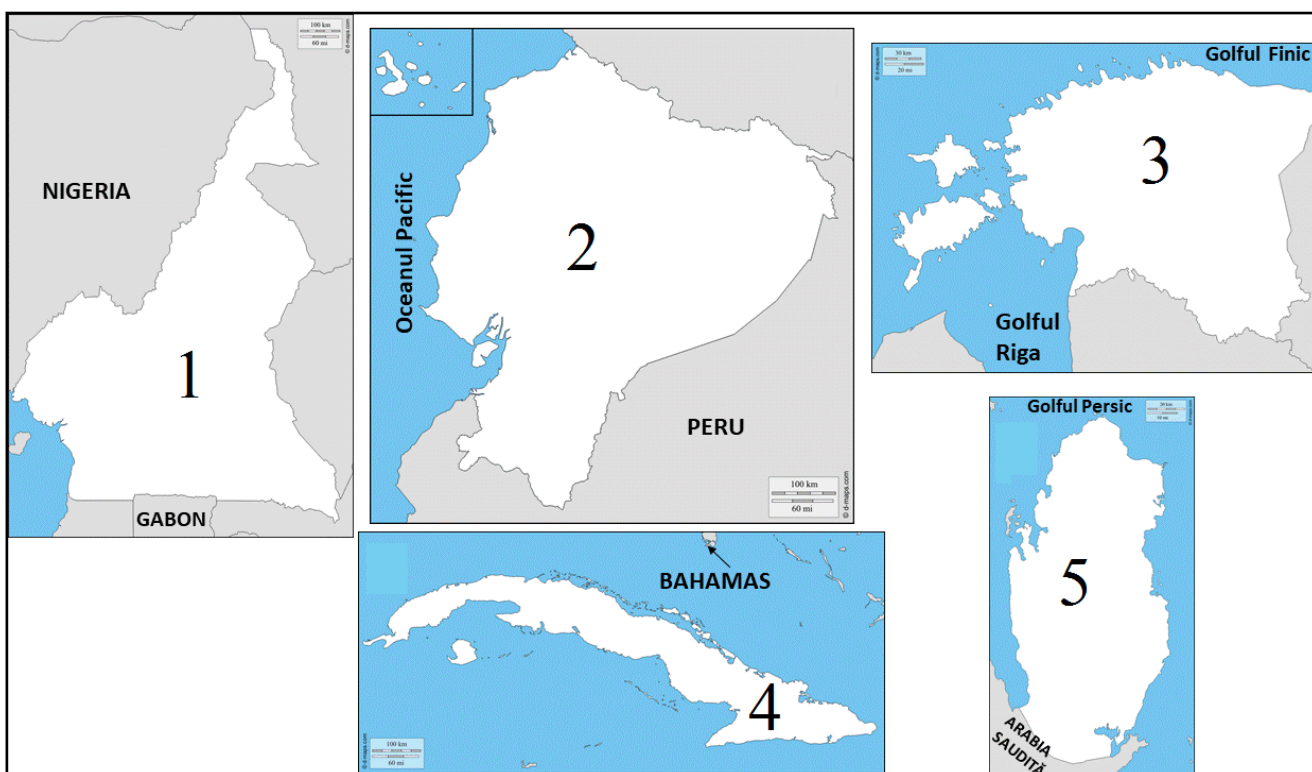
**FÖLDRAJZ TANTÁRGYVERSENY**  
**MEGYEI SZAKASZ**  
**2019. március 9.**

**ÍRÁSBELI PRÓBA**  
**X. osztály**

- Minden tétel kötelező. Hivatalból jár 10 pont.
- Munkaidő 3 óra.

**I. tétel (20 pont)**

Az alábbi képeken a számok különböző államok területét jelölik.



**A.** Írjátok le a következő mondatokat kiegészítő helyes válaszokat.

1. Az 1-es számmal jelölt ország fővárosa ...
2. A 2-el jelölt ország közelében található szigetcsoport neve ...
3. A 3-al jelölt országban beszélt nyelv a ... nyelvcsaládba tartozik.
4. A 4-el jelölt ország fővárosának neve ...
5. Az 5-el jelölt ország államformája ...

**10 pont**

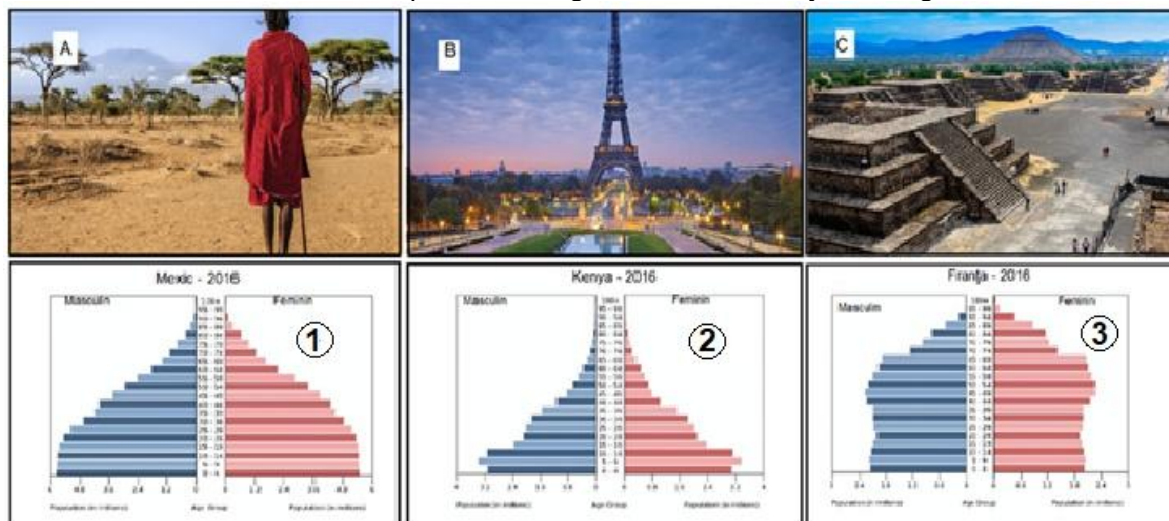
**B.** Olvassátok el figyelmesen a következő kijelentéseket. Ha a kijelentés igaz, írjátok **I** betűt, ha pedig hamis, akkor **H** betűt a lapra.

1. A 3-al jelölt ország 1990 előtt Jugoszlávia része volt.
2. Az 5-el jelölt ország fővárosa Dubai.
3. A 4-el jelölt ország a Kis-Antillák szigetcsoport része.
4. A 2-el jelölt ország fővárosán áthalad az Egyenlítő.
5. Az 1-el jelölt ország tagja a Kőolajexportáló Államok Szövetségének (OPEC).

**10 pont**

## II. tétel (20 pont)

Elemézzétek a következő képeket illetve grafikonokat és oldjátok meg a feladatokat:



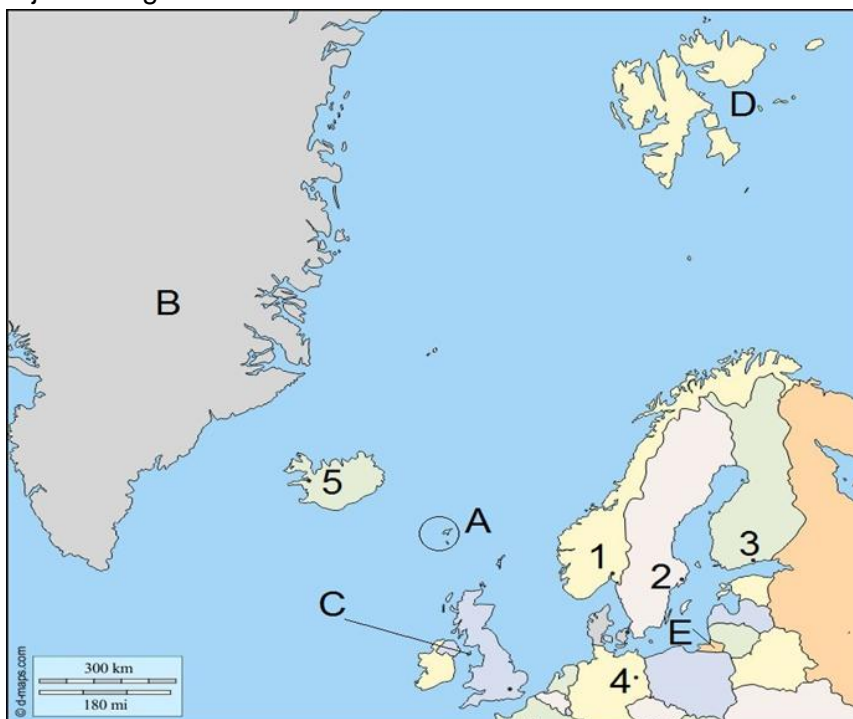
<https://www.cia.gov/library/publications/the-world-factbook/geos.html>

- Társítsátok az 1, 2 és 3-as számokkal jelölt képeket az A, B és C betűkkel jelölt grafikonokkal;
- Írjátok le a népesség növekedés várható alakulását a 3-al jelölt korpíramis (korfa) formája alapján;
- Határozzatok meg:
  - két tényezőt, melyek meghatározták a 2-el jelölt korpíramis alakját;
  - két társadalmi-gazdasági következményt, melyek az 1-el jelölt korpíramis alakjából adódnak;
  - az 1-el és 3-al jelölt korpíramisok alakját.

## III. tétel (15 pont)

Az alábbi térkép alapján oldjátok meg a feladatokat:

- Írjátok le az A és D jelölt függő területek nevét, illetve azokat az országokat amelyekhez tartoznak;
- Írjátok le azon két ország közötti határtípus nevét, amelyek fővárosait az 1-es és 2-es számok jelölik;
- Írjátok le azon három ország területén található nemzetiségi (etnikai)-kulturális régió nevét, amelyek fővárosait az 1-es, 2-es és 3-as számok jelölik;
- Írjátok le azt a betűt, amely az Orosz Föderáció exklávéját jelöli, illetve ennek a nevét;
- Írjátok le annak a megalopolisz típusú népességtömörülésnek a nevét, amely abban az országban van, aminek fővárosát a 4-es szám jelöli. Nevezzétek meg a legnagyobb folyami kikötőjét ennek a népességtömörülésnek;
- Írjátok le az 5-el jelölt főváros egy gazdasági funkcióját (szerepkörét).



#### IV. tétel (20 pont)

Az alábbi képek két nagyon nagy (több mint 10 millió lakósú) várost ábrázolnak. Ezek két különböző kontinensen és féltekén helyezkednek el, egyik egy amerikai, a másik pedig egy ázsiai megalopoliszban. A képek alapján oldjátok meg a feladatokat:



1. Az **A** betűvel jelölt képről határozzátok meg:
- a város nevét;
  - a megalopolisz nevét;
  - az ország hivatalos nyelvét, amelyben a város található;
  - az illető ország belső szervezési formáját;
  - a városra jellemző négy városrendezési problémát;
  - a **b** alpontnál megnevezett megalopolisz két másik városát.

10 pont

2. A **B** betűvel jelölt képről határozzátok meg:
- a város nevét;
  - a megalopolisz nevét;
  - két hagyományos vallást abból az országból, ahol a város található;
  - az illető ország államformáját;
  - a **b** alpontnál megnevezett megalopolisz öt másik városát.

10 pont

#### V. tétel (15 pont)

Olvassátok el a következő szöveget:

**„Az Európa nyugati részén elhelyezkedő kis hanza állam domborzata leginkább alacsony alföld, gyakran tengerszint alatti magasságokkal. Jellegzetesek ebben az országban a polderek, melyek tengertől elhódított területek, ahol jelenleg leginkább virágokat termesztnek”.**

A. Határozzátok meg:

- a szövegben bemutatott ország nevét;
- a fővárosainak típusát és nevét;
- a lakosság többsége által beszélt hivatalos nyelvet;
- az ország területén kialakulásban levő megalopolisz nevét;
- annak a jelenlegi politikai-gazdasági államszövetségnek a nevét, amelynek alapító tagja az illető ország.

B. A táblázat az illető ország 2017-es évre vonatkozó demográfiai mutatóit tartalmazza.

Népességszám	Születési arány	Halálozási arány	Városi lakosság	Terület
17 151 225	10,9‰	9‰	92%	41 543 km <sup>2</sup>

<https://www.cia.gov/library/publications/the-world-factbook/geos.html>

Határozzátok meg:

- a népsűrűséget;
- a természetes szaporulatot (ezrelékben);
- a falusi lakosság számát (abszolút értékben);
- a városi lakosság számát (abszolút értékben).