

**CONCURSUL ȘCOLAR DE GEOGRAFIE**  
**ETAPA JUDEȚEANĂ/A SECTOARELOR MUNICIPIULUI BUCUREȘTI**  
**9 martie 2019**

**PROBA TEORETICĂ SCRISĂ**  
**CLASA a XI-a**

- **Minden tétel kötelező, hivatalból 10 pont .**
- **Munkaidő 3 óra .**

**I Tétel( 20 Pont)**

**A.** Írjátok a vizsgalpra a helyes válasz betűjelét::

1.A szén és acél közöspiacja alapozta meg a következő regionális államcsoporthozulást:

- a)A.P.E.C                      b) A.S.E.A.N                      c) C.E.F.T.A                      d) E.U.

2. Tundra terület található a következő sziget déli részén:

- a) Ir                      b)Húsvét                      c) Szokotra                      d)Tűzföld

3.Milyen katasztrófa típusba sorolható az afrikai sertéspestis:

- a)antropikus                      b) biológiai                      c)endogén                      d) szociális

4. A „hurricane” trópusi ciklon elterjedési területe:

- a)Arab- tenger                      b) Barents- tenger                      c)Karib- tenger                      d) Északi- tenger

5. Az elsivatagosodás legkevésbé észlelhető a következő kontinensen:

- a)Afrika                      b) Észak-Amerika                      c) Ausztrália                      d) Európa

**10 pont**

**B.**Írjátok a vizsgalpra az alábbi mondatokat kiegészítő helyes választ:

1. Kanada északi területének jellemző tájtípusa .....

2. A környezetet alkotó edafikus (termőtalajképző) összetevő neve ..

3.A komodói varánuszt(sárkány) védő nemzeti park megtalálható ..... állam területén

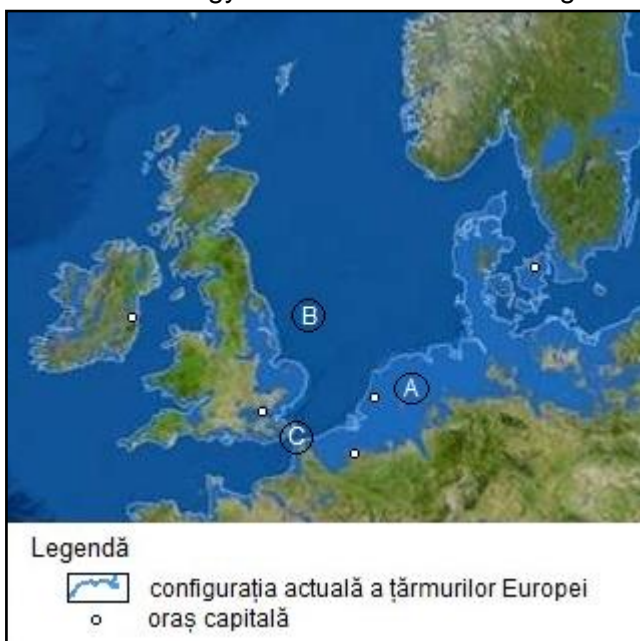
4. A légkör vegyi anyagokkal történő szennyeződésének neve.....

5. A „mattora” típusú táj jellemző a ..... országra

**10 pont**

**II Tétel (24pont)**

Olvassátok el figyelmesen az alábbi szöveget és elemezzétek a mellékelt térképészletet.



”London? Egy emlék.  
Velence.....visszakövetelte az Adriai tenger.  
Többezer év múlva e katasztrófális forgatókönyv szerint, egyes területek eltűnnek (...) Közben a Földközi tenger terjeszkedő vizei befogják a Fekete és a Kaszpi tengert.”

Forrás :National Geographic 2013 november (ASON TREAT, MATTHEW TWOMBLY, WEB BARR, MAGGIE SMITH, STAFF NMM., KEES VEENENBOS)

Írjátok a vizsgalpra a válaszokat a következő követelményekre:

**a.**Az **A** betűvel jelölt területre vonatkozóan nevezzétek meg:

1. Annak a folyamatnak a nevét amely a partvonalak teljes átalakulásához vezet és megemlíti a fenti szöveg is.

2. Logikai sorrendben(ok-okozat) **3** jelenséget amelyek hozzájárulnak az 1 pontban megnevezett folyamat bekövetkezésében .

3.Az **1** ponban megjelölt folyamat a környezetre gyakorolt **2** közvetett hatását.

4. **3** országot a fenti térképészletről amelyek területei jelentősen csökkennek a partvonalak teljes átalakulásának következtében

**9 pont**

b. A B betűvel jelölt területre vonatkozóan nevezzétek meg

1. A kontinentális talapatból kitermelt két energetikai erőforrást .
2. A tengeri táj három látható változását amely az 1 pontban megnevezett erőforrások kitermelése következtében jelent meg.
3. Az energetikai erőforrások felhasználása következtében megjelenő 3 kockázatot/katasztrófát és 3 a tengeri tájat védő intézkedést.. **11 pont**

c. A C betűvel jelölt területre vonatkozóan nevezzétek meg :

1. A Doveri/Calaisi szorosban használt két közlekedési/szállítási típust
2. Ehez a két közlekedéstípushoz kapcsolható két antrópikus rizikófaktort. **4 pont**

### **III Tétel (14 pont)**

Olvassátok el figyelmesen az alábbi szöveget:

*”az eurorégiók olyan szubregionális csoportosulási formák amelyek hozzájárulnak a határokon átívelő közigazgatási területek gazdasági és társadalmi kohéziójának fejlődéséhez, uniós és nem uniós országhatárokon .Ebben a keretben történő együttműködés alapja az egyenes és állandó kapcsolatok létrehozása a határok két oldalán levő régiók és közösségek helyi önkormányzatai között, az országok törvényeinek megfelelően. A határokon átívelő együttműködési kezdeményezések és az eurorégiók létrehozása európai szinten támogatot és megjelenik az Európa Tanács dokumentumaiban. Az Európai Közösség regionális, pénzügyi és politikai eszközökkel segíti a gyengén fejlett régiókat.”*

(forrás <https://www.mae.ro/node/1513>)

Az eurorégiókra vonatkozóan határozzátok meg:

1. A legrégebbi eurorégió nevét;
2. Azokat az országokat amelyek határán található az 1es pontban megnevezett eurorégió
3. Az eurorégiók kialakulását elősegítő 6 tényezőt
4. 4 gazdasági ágat ahol a regionalizálásnak pozitív eredménye lehet .

### **IV. Tétel (14 pont)**

Olvassátok el figyelmesen az alábbi szöveget

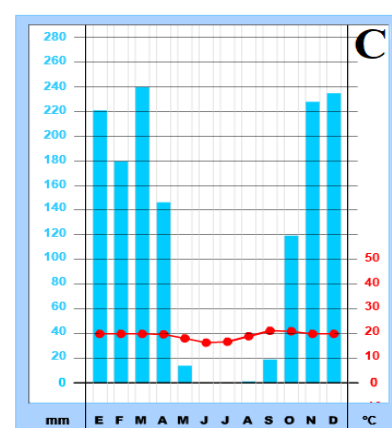
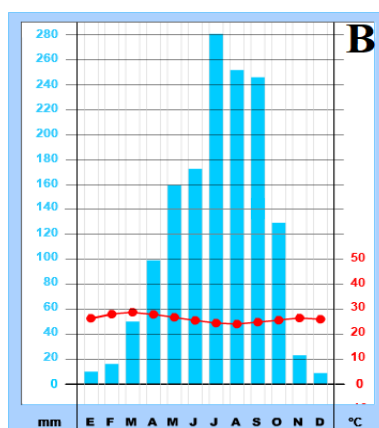
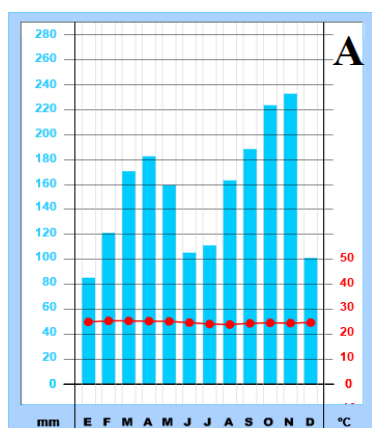
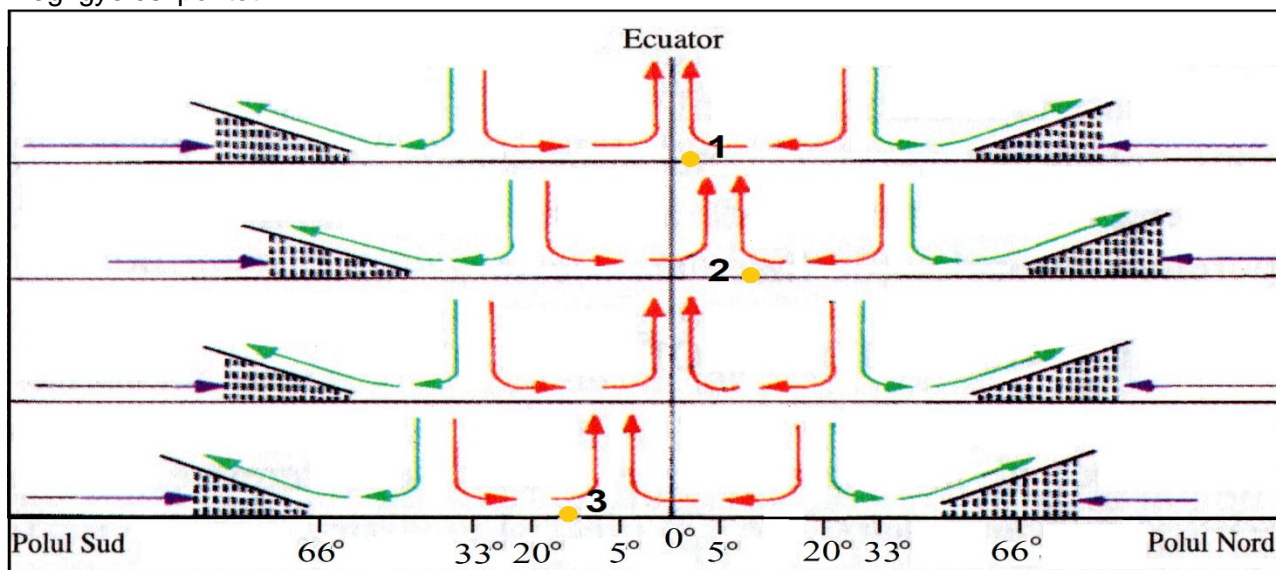
*”2019 február 3-án este egy tragikus eseményt jeleztek amely a Kelemen havasokban történt. Snowmobilokkal túrázó csoportot lepett meg egy lavina.Három turista került veszélybe, az egyik életét veszítette, a másik súlyosan sérült, a hegyimentők beavatkozása fokozottan veszélyes volt. forrás: news.ro)*

Írjátok a vizsgalagra:

1. A szövegben leírt katasztrófa típusát.
2. Három okot ennek a kialakulására vonatkozólag
3. E katasztrófa három következményét.
4. E katasztrófára vonatkozóan 4 megelőzési módot
5. 3 viselkedési módot/ tennivalót a lavina bekövetkezésekor.

## V. Tétel (18 pont)

Világszinten a földrajzi tájak szélességi kiterjedését a légtömegek konvergens és divergens mozgása befolyásolja. Az alábbi ábrán számokkal jelöltünk, eltérő környezetekben, három megfigyelési pontot.



Elemézték az ábrát és a fenti klímadiagramokat és írták a vizsgalpra a válaszokat az alábbi követelményekre:

- A.** az 1-es megfigyelő pontra vonatkozóan nevezték meg:
- A jellemző tájtípust tipul de mediu specific;
  - Az a pontban megnevezett tájtípusra vonatkozó klímadiagramot
  - Három geoökológiai tényezőt amely meghatározza a csapadékmennyiséget ebben a környezettypusban
  - A domináns növényzet két jellemzőjét
  - Egy a mocsaras/árapályos területre jellemző tájtípust és a növényzet egyik alkalmazkodását

**9 pont**

- B.** a 2-es és 3-as megfigyelő pontokra vonatkozóan nevezték meg
- A jellemző tájtípust;
  - A 2-es és 3-as megfigyelőpontra vonatkozó klímadiagramokat
  - Az évi csapadékmennyiség változását amelyet a légtömegek mozgása határoz meg
  - A 2-es,3-as pontokon áthaladó folyók mentén kialakuló tájtípust
  - Három antrópikus tevékenységet amelynek környezetmódosító hatása van a 2-es és 3-as megfigyelőpontokon

**9 pont**