

CONCURSUL ȘCOLAR DE GEOGRAFIE
ETAPA JUDEȚEANĂ/A SECTOARELOR MUNICIPIULUI BUCUREȘTI
9 martie 2019

PROBA TEORETICĂ SCRISĂ
CLASA a XII-a

- **Minden tétel kötelező. Hivatalból 110 pont.**
- **Munkaidő 3 óra.**

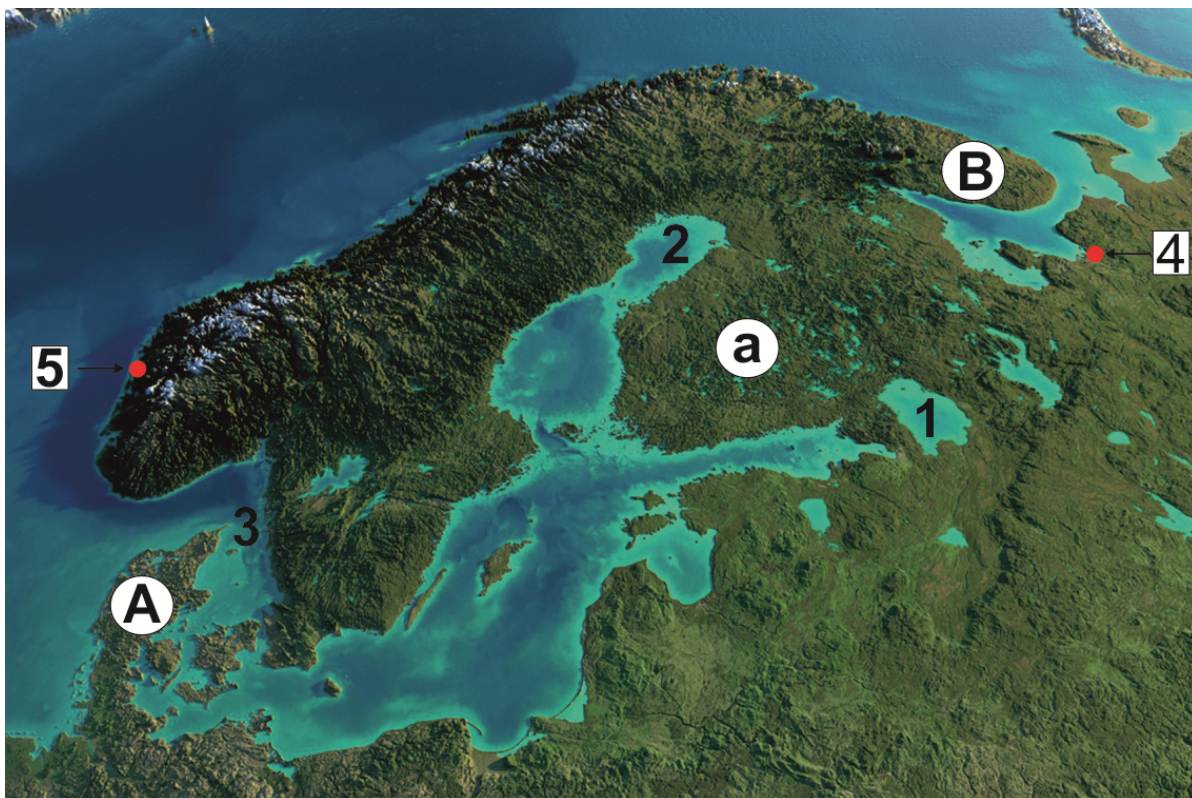
I Tétel (20 pont)

Írjátok a versenylapra a következő kijelentések helyes válaszának megfelelő betűket:

1. A következő tengerek partvidékein limánokat és lagúnákat találunk:
a. Balti és La Manche **b.** Balti és Norvég **c.** Fekete és Balti **d.** Fekete és Norvég
2. Az Atlanti-óceáni rift vulkanizmusa a következő szigeten észlelhető:
a. Írország **b.** Izland **c.** Mallorca **d.** Szicília
3. A Svalbard- sziget a következő országhoz tartozik:
a. Dánia **b.** Finnország **c.** Norvégia **d.** Svédország
4. A Moldvai-fennsík jellemzői:
a. Megfiatalodott domborzattal rendelkező, újraemelkedett peneplén, amelyet kristályos pala és mészkő alkot,
b. A negyedkorban keletkezett gyűrt szerkezeti egység,
c. Az alpesi hegyképződés utolsó fázisában az előkárpati árokban lerakódott, gyűrődött üledékekben alakult ki,
d. Régi pajzsszerkezeten kialakuló egység, melynek felszínét mio-pliocén üledékek borítják.
5. Európa legdélebbi gleccserét a következő hegységben találjuk:
a. Alpok **b.** Skandináv- hegység **c.** Pireneusok **d.** Sierra Nevada
6. A Dinári Alpok folytatásában található 2911 m magas hegység, amelyben karszt felszínformák találhatóak:
a. Appennini **b.** Pennini **c.** Pindosz **d.** Sztara Planina (Balkán)
7. Az E60 útvonala:
a. Hamburg – Nagyvárad – Kolozsvár – Brassó – Bukarest– Slobozia – Konstanca
b. Nagylak – Arad – Sebes – Pitești – Bukarest– Konstanca
c. Stamora-Moravica – Temesvár – Craiova – Bukarest– Giurgiu – Varna – Isztambul
d. Varsó – Lvov – Suceava – Bodza – Bukarest – Giurgiu – Szófia
8. A Néva folyón fekvő, „ Észak Velencéjének” is nevezett város neve:
a. Amszterdám **b.** Koppenhága **c.** Moszkva **d.** Szentpétervár
9. A Román-alföld és Pó-alföldje közti hasonlóság:
a. a területükön találhatóak morénák és glaciális homok,
b. a hegység és az alföld közt hegylábi átmenetet találunk,
c. a legfontosabb városok a peremen találhatóak,
d. a mőeziai pajzs platformjára lerakódott üledékek alakították ki.
10. Az Erdélyi-medence altalajkincsei:
a. barnaszén, metángáz, só **b.** metángáz, só, antracit
c. feketeszén, kőolaj, metángáz **d.** lignit, metángáz, bauxit

II Tétel (22 pont)

Elemézzétek az alábbi képet és írjátok le a kérdéseknek megfelelő válaszokat:



1. Határozzátok meg:

- a. Az 1.számmal jelölt tó eredetét és nevét,
- b. A 2.számmal jelölt öböl nevét,
- c. Az 3 .számmal jelölt szoros nevét,
- d. Az A és B betűkkel jelölt félszigetek neveit,
- e. Az 4 és 5 .számokkal jelölt városok neveit.

8 pont

2. A 4 és 5 számokkal jelölt városokhoz:

- a. Határozzatok meg két éghajlatot befolyásoló tényezőt,
- b. Magyarázzátok meg, hogy a 2.a. pontban feltüntetett városok éghajlatát hogyan befolyásolják ezek a tényezők.

6 pont

3. Nevezzétek meg a 4.számmal jelölt városhoz:

- a.a rajta áthaladó folyó nevét,
- b.gazdasági funkcióját.

2 pont

4.A képen B. betűvel jelölt félsziget jellegzetes növényzetét.

1 pont

5. Az a,betűvel jelölt felszínforma esetében határozzátok meg :

- a. a tájegység nevét;
- b.a pajzs korát melyen kialakult ez az egység;
- c.egy genetikai domborzati formát.

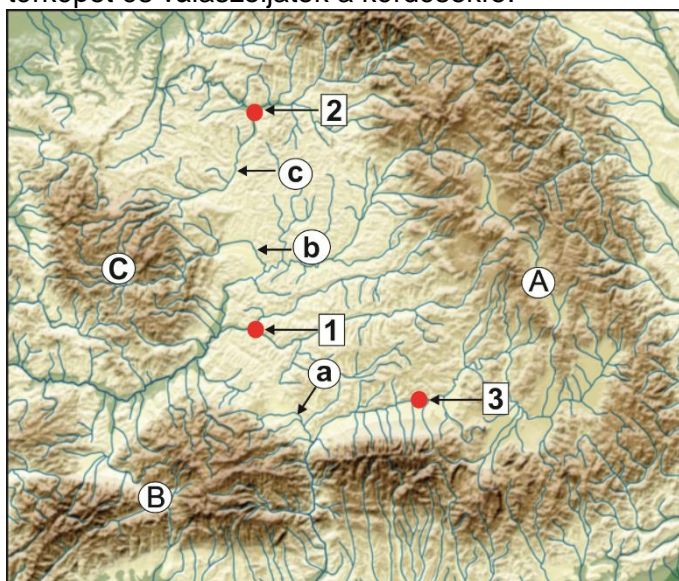
3 pont

6. Az A betűvel jelölt félszigeten található országot,melynek hagyománya van a szélenergia felhasználásában és nevezzétek meg az országot és egy tényezőt,mely jelentősen hozzájárul a szélenergia értékesítéséhez.

2 pont

III. Tétel (16 pont)

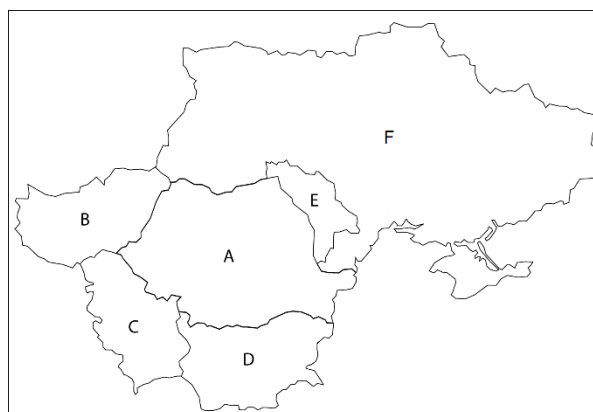
Elemézzétek az alábbi térképet és válaszoljatok a kérdésekre:



1. Nevezzétek meg:
 - a. Az 1, 2 és 3 számmal jelölt városok nevét;
 - b. Az a, b és c. betűkkel jelölt folyók nevét
2. A Kárpátokon belüli, a geológiai szerkezeten kialakult két felszínformát.
3. Az A betűvel jelölt domborzati alegységben gyakran észlelhető hőmérsékleti inverzió. Magyarázzátok meg a jelenség kialakulását.
4. A B betűvel jelölt alegységéből neveztetek meg egy altalajkincset
5. A c. betűvel jelölt folyón található legnagyobb városra vonatkozólag határozzátok meg::
 - a. a város nevét;
 - b. alapításának időszakát;
 - c. két funkcióját .
6. Magyarázzátok meg a C betűvel jelölt egységben a glaciális domborzat hiányát.

IV Tétel (16 pont)

1. Elemézzétek a mellékelt térképet:
 - a. Az A, B és C betűkkel jelölt országok beszélt nyelvei mely nyelvcsaládokhoz tartoznak;
 - b. A térképen a B betűvel jelölt ország dél-nyugat részén található tó neve és annak eredete;
 - c. Az A, B és C, betűkkel jelölt országok közös domborzati egységének neve és kialakulásának módja;
 - d. Az A, D betűkkel jelölt országok két városának nevét, melyeket vasúti és közúti híd köt össze.
 - e. A térképen jelölt 6 ország közös hidrográfiai elemének neve.



10 pont

2. Az 1.e pontnál meghatározott hidrográfiai elemhez neveztetek meg :
 - a. az A betűvel jelölt ország folyóvízvölgyében történő három antropikus eredetű változást;
 - b. az antropikus tevékenység három negatív következményét az adott folyóvölgyben. **6 pont**

V. Tétel (16 pont)

Az alábbi térkép és képek egy turisztikai és tengeri hajózási fontosságú európai régióra vonatkoznak.



Európa kiemelkedő turisztikai jelentőségű régiója a mediterrán vidék. Figyelembe véve ezen kijelentést válaszoljatok a következő felkérésekre:

- a. társítsátok az **a, b** és **c** képeket a nekük megfelelő számokkal jelölt városokhoz,
- b. az Azúr-parton található két üdülőváros neve,
- c. nevezetek meg egy mediterrán parton található, Spanyolországhoz tartozó turisztikai régiót.

6 pont

1. A Földközi-tenger térségében már az ókorban nagyon fejlett volt a tengeri hajózás. Figyelembe véve ezen kijelentést válaszoljatok a következő követelményekre:

- a. A tengeri szállítás két előnye és két hátránya.
- b. A **4, 5** és **6** betűkkel jelölt tengeri kikötők nevei és az országok amelyhez tartoznak.

10 pont