



MINISTERUL
EDUCAȚIEI
NAȚIONALE
ȘI CERCETĂRII
ȘTIINȚIFICE



SOCIETATEA
DE GEOGRAFIE
DIN ROMÂNIA

EDITURA CD PRESS
www.cdpress.ro



**CONCURSUL ȘCOLAR NAȚIONAL DE GEOGRAFIE „TERRA”
ETAPA JUDEȚEANĂ/MUNICIPALĂ BUCUREȘTI**

Ediția a IV-a, 26 martie 2016

CLASA a VII-a



*Eu sunt **Terra** și prietenul meu Harry Potter și ne bucurăm că ai venit la acest concurs. Tu ești un mare geograf și, astăzi, ai ocazia să demonstrezi cât de bine mă cunoști. Ai la dispoziție 90 de minute să rezolvi testul pe care ți l-am pregătit. Răspunde corect la toate cerințele și vei câștiga 90 de puncte. Împreună cu cele 10 puncte pe care ți le oferim în dar, drept mulțumire că ai venit aici, vei avea în total 100 de puncte.*

Tétel I (12 pont) :

Ird a vizsgalpra a következő kijelentések helyes válaszainak megfelelő betűit:

1. Az a folyó, amely mentén Ázsia dél –nyugati részén kialakult egy ókori neolitikus civilizáció:
a. Chang Jiang b. Eufrátesz c. Gangesz d. Mekong
2. Nyugat és dél –nyugat Ázsia lakosságának domináns vallása:
a. keresztény b. budhista c. hinduizmus d. iszlám
3. Bhutan fővárosa:
a. Colombo b. Islamabad c. Katmandu d. Thimphu
4. Kelet és dél-kelet Ázsia legnagyobb kikötője:
a. Hanoi b. Shanghai c. Szingapúr d. Yokohama
5. Az afrikai kontinens legmagasabb vulkánja:
a. Kamerun b. Kenya c. Kilimanjaro d. Kliucev
6. Dél –afrika legfontosabb altalajkincsei:
a. szén b. gyémánt c. márvány d. kőolaj

II Tétel (14 pont)

A. Olvasd figyelmesen az alábbi szöveget:

„Két kontinensen található ország, Európa és Ázsia, melyet a Márvány tenger választ el. Az európai rész elnevezése Trákia, az ázsiai rész három tartományból áll, jellemző domborzattípusa hegység és fennsík.”

Ird a vizsgalpra:

1. a szövegben körülírt ország nevét;
2. két félsziget nevét, amelyen ez az ország megtalálható;
3. az ország északi részén található tenger nevét;
4. annak a városnak a nevét, amely a két kontinensen található.

6 pont

B. Ird a vizsgalpra a követelményeknek megfelelő helyes választ:

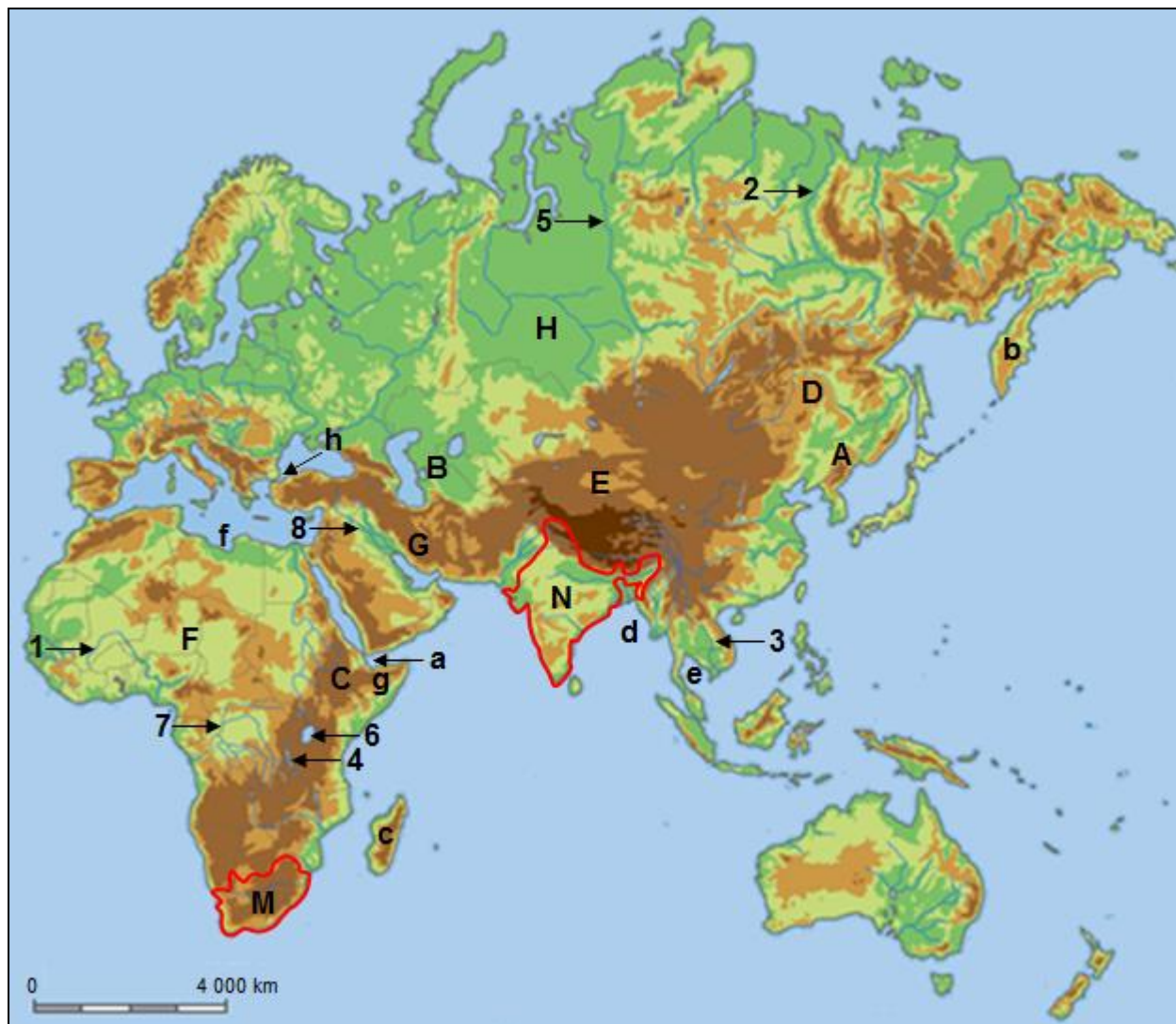
1. Magyarázd meg az Azsia középső részén található mérsékelt sivatagok jelenlétét, megemlítve két tényezőt, amely hozzájárult kialakulásukhoz..

2. Nevezd meg két tektonikai folyamatot, amely a kelet-afrikai árokrendszer kialakulásának következménye.

8 pont

III Tétel (30 pont)

Az alábbi térképen a különböző partszakaszok a-tól h-ig (szigetek, félszigetek, szorosok és öblök) , a domborzati formák A -tól H -ig és a vízrajzi elemek(folyók, tavak)1 -tól 8-ig vannak jelölve.



A. Azonosítsd a domborzati formát vagy vízrajzi elemet az alábbi földrajzi jellegzetességek alapján. Írd a vizsgalatra a követelményeknek megfelelő helyes válasz betűjét vagy számát .

1. száraz síkság, a Kaszpi tenger keleti része ;
2. folyó, Mezopotámia-alföld ;
3. Zagrosz, Teherán;
4. folyó, Szibéria, Bajkál tó, Bajkál- hegy;
5. medence, sivatag, Tian-Şan hegy, Kunlun hegy ;
6. fennsík, sivatag, passzát, Csád
7. folyó, Indokinai félsziget;
8. Viktória, Fehér Nilus;

9. fennsík, három irányból Huang He folyó határolja;
 10. folyó, Guineai öböl, Nigéria.

20 pont

B. M és N betűkkel a fenti térképen két jellegzetes országot jelölnek a tanulmányozott kontinensekről. Ird a vizsgalagra:

1. Az **M** betűvel jelölt országhoz:
 a. két hegyvidék nevét;
 b. a legfontosabb folyó nevét;
 c. két város nevét, melyek fontos ipari központok.

5 pont

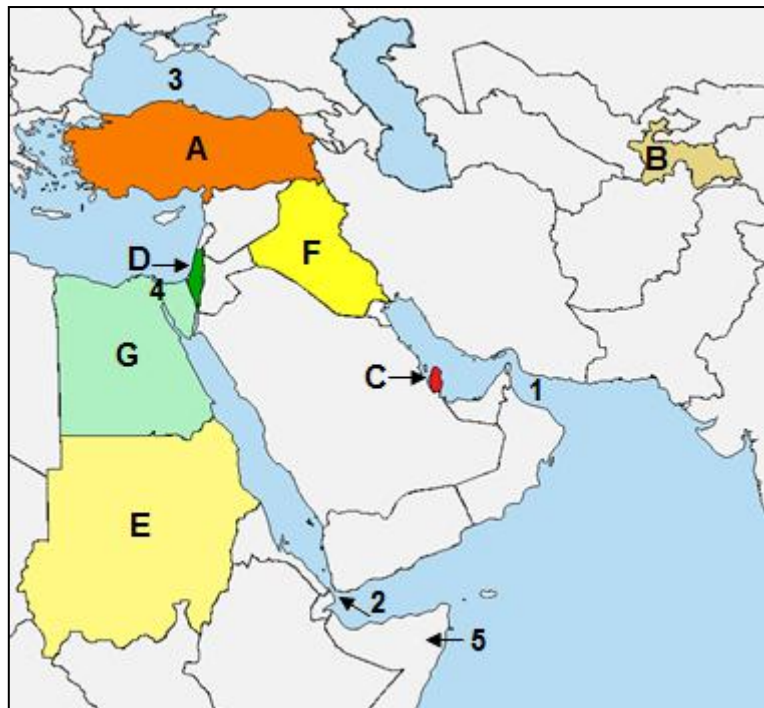
2. Az **N** betűvel jelölt országhoz:
 a. az ország lakói által gyakorolt két vallás nevét;
 b. két 10 millió feletti lakosságszámú város ebből az országból;
 c. egy mezőgazdasági kultúra neve, mely nagy területeket foglal el ebben az országban. 5 pont

Tétel IV (26 pont)

A. Elemezd a következő térképet és írd a vizsgalagra:

1. az **A, B, C, D, E, F** betűkkel jelölt ország nevét;
 2. az **1-s** számmal jelölt öböl nevét;
 3. a **2-s** számmal jelölt tengerszoros nevét;
 4. a **3-s** számmal jelölt tenger nevét;
 5. a **4-s** számmal jelölt régióban található csatorna nevét;
 6. az **5-s** számmal jelölt félsziget nevét.

11 pont



B. Elemezd a mellékelt térképet és írd a vizsgalagra a kijelentéseket kiegészítő válaszokat:

1. A **2-s** számmal jelölt tengerszoros amely összeköti a Vörös tengert a öböllel .
 2. A **C-** vel jelölt ország fővárosának neve
 3. Az **E** és **G** betűkkel jelölt országok területeit átszeli afolyó.
 4. A Van tó a betűvel jelölt ország területén található.
 5. A júdaizmus a.....betűvel jelölt ország lakosságának vallása.
 6. Közel –Kelet régiójához tartozó országokat a következő betűk jelölik

7 pont

C. Az A-tól G-ig jelölt képek a fenti térképen jelölt két országnak turisztikai látnivalóit mutatják be. Ird a vizsgalagra:



1. az **A**-val jelölt képen található tó nevét, valamint a vízfelszínen kialakult sötömbök keletkezésének oka ;
2. azt a betűt, amely a fenti térképen azt az országot jelöli amely területén ez a tó található;
3. annak az országnak betűjét, amelyben a **B** betűvel jelölt kép turisztikai látnivalói találhatóak;
4. nevezd meg azokat a fővárosokat, amelyekben a **C** és **D** betűkkel jelölt turisztikai látnivalók találhatóak;
5. azon országok betűit, melyekkel a fenti térképen **C** és **D** betűkkel jelölt turisztikai látnivalók vannak .

8 pont

V Tétel (8 pont)

Elemezd a következő térképet és válaszolj a következő követelményekre:

1. Határozd meg az **E** betűvel jelölt pont földrajzi koordinátáit.

2. Afrika szélső pontjait az **A, B, C, D** földrajzi koordináták jelölik:

A: 37°21' lat N și 9°50' long E

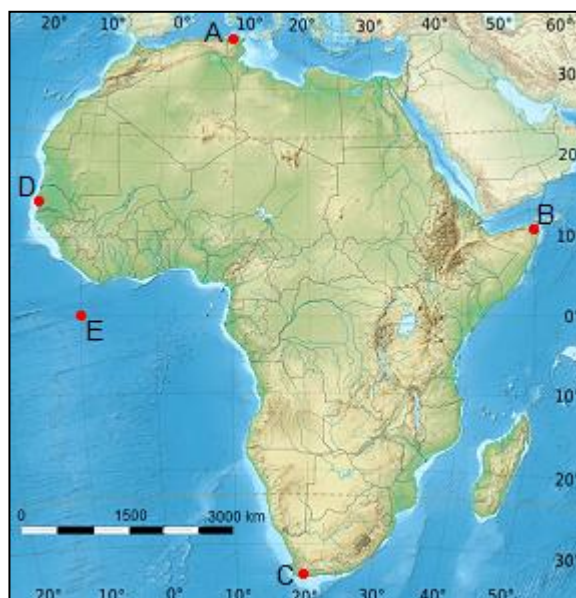
B: 11°49' lat N și 51°28' long E

C: 34°51' lat S și 20° long E

D: 14°44' lat N și 17°32' long V

Számítsd ki hány szélességi és hosszúsági fokon helyezkedik el az afrikai kontinens.

3. Számítsd ki az a **A** és **B** betűkkel jelölt pontok közti hosszúsági távolság értékét.



*Felicitări că ai ajuns la finalul testului.
Sper să ne revedem la etapa națională.
Până atunci, te rog să ne scrii pe adresa concursterra2016@yahoo.ro. Vrem să știm dacă ți-au plăcut subiectele și mai ales dacă vei participa și la anul la acest concurs. Îți vom pregăti noi surprize. Paaa!*



MINISTERUL
EDUCAȚIEI
NAȚIONALE
ȘI CERCETĂRII
ȘTIINȚIFICE



SOCIETATEA
DE GEOGRAFIE
DIN ROMÂNIA

EDITURA CD PRESS
www.cdpress.ro



CONCURSUL ȘCOLAR NAȚIONAL DE GEOGRAFIE „TERRA”
ETAPA JUDEȚEANĂ/MUNICIPALĂ BUCUREȘTI
Ediția a IV-a, 26 martie 2016

BAREM DE EVALUARE ȘI DE NOTARE

CLASA a VII-a

- Se punctează oricare alte formulări / modalități de rezolvare corectă a cerințelor.
- Nu se acordă punctaje intermediare, altele decât cele precizate explicit prin barem.

Subiectul I 12 puncte

Se acordă câte **2 puncte** pentru fiecare răspuns corect:

1. b; 2. d; 3. d; 4. c; 5. c; 6. b.

Total Subiectul I (1+2+3+4+5+6) = 12 puncte

Subiectul II 14 puncte

A. Se acordă 6 puncte astfel:

1. Turcia - **2p**
2. Pen. Asia Mică - **1p**, Pen. Balcanică - **1p**;
3. Marea Neagră - **1p**;
4. Istanbul - **1p**.

Total A (1+2+3+4) = 6 puncte

B. Se acordă 8 puncte astfel:

1. câte **2 puncte** pentru fiecare factor corect menționat:

Exemplu: - marea depărtare de mări și oceane,
- munții care constituie bariere în calea precipitațiilor sau bariere climatice etc.

2. câte **2 puncte** pentru fiecare fenomen/proces tectonic corect menționat:

Exemplu: vulcanism, cutremure, lacuri tectonice, formare de rift și expansiunea fundului oceanic etc.

Total B (1+2) = 8 puncte

Total Subiectul II (A+B) = 14 puncte

Subiectul III 30 puncte

A. Se acordă câte 2 puncte pentru fiecare răspuns corect:

1. B; 2. 8; 3. G; 4. 2; 5. E; 6. F; 7. 3; 8. 6; 9. D; 10. 1.

Total A (1+2+3+4+5+6+7+8+9+10) = 20 puncte

B. Se acordă câte 1 punct pentru fiecare răspuns corect:

1. a. M-ții Scorpiei - **1p**, M-ții Capului - **1p**;
b. Orange - **1p**;
c. Johannesburg - **1p**, Cape Town - **1p**.

Total 1 (a+b+c) = 5 puncte

2. a. oricare două religii practicate de populația Indiei dintre hinduism, budism, islamism, creștinism, jainism - **1p+1p**

b. Mumbai/Bombay - **1p**, Calcutta - **1p**;

c. orez/sorg/mei/iută etc. - **1p**.

Total 2 (a+b+c) = 5 puncte.

Total B (1+2) = 10 puncte

Total Subiectul III (A+B) = 30 puncte

Subiectul IV 26 puncte

A. Se acordă câte 1 punct pentru fiecare răspuns corect:

1. A - Turcia; B - Tadjikistan; C - Qatar; D - Israel; E - Sudan; F - Irak (total 6p);
2. Oman - 1p;
3. Bab el Mandeb - 1p;
4. Marea Neagră - 1p;
5. Suez - 1p;
6. Somalia - 1p.

Total A (1+2+3+4+5+6) = 11 puncte

B. Se acordă câte 1 punct pentru fiecare răspuns corect:

1. Aden - 1p;
2. Doha - 1p;
3. Nil - 1p;
4. A - 1p;
5. D - 1p;
6. A - 1p, D - 1p.

Total B (1+2+3+4+5+6) = 7 puncte

C. Se acordă câte 1 punct pentru fiecare răspuns corect:

1. Marea Moartă - 1p, salinitatea foarte ridicată/evaporarea puternică - 1p;
2. D - 1p;
3. G - 1p;
4. C - Ierusalim - 1p, D - Cairo - 1p;
5. C - D/Israel - 1p, D - G/Egipt - 1p.

Total C (1+2+3+4+5) = 8 puncte

Total Subiectul IV (A+B+C) = 26 puncte

Subiectul V 8 puncte

Se acordă câte 2 puncte pentru fiecare răspuns corect:

1. 0° lat și 10° long V - 2p;
2. desfășurare pe latitudine: 72°12' - 2p; desfășurarea pe longitudine: 69° - 2p;
3. 41°38' - 2p.

Total Subiectul V (1+2+3) = 8 puncte

TOTAL: 90 PUNCTE

OFICIU: 10 PUNCTE