



**CONCURSUL ȘCOLAR NAȚIONAL DE GEOGRAFIE „TERRA”
ETAPA JUDEȚEANĂ/A SECTOARELOR MUNICIPIULUI BUCUREȘTI**

Ediția a VII-a, 30 martie 2019

CLASA a V-a




Terra vagyok , örülök, hogy eljöttél erre a versenyre Bemutatom Jancsit aki ötödikes mint te. Ő készítette neked ezt a feladatlapot. 90 perc áll rendelkezésedre, hogy az összes feladatot megold és összegyűjts 90 pontot. Jancsától még 10 pontot kapsz ajándékba.

Figyel jól, ne siess. Kövesd az utasításokat! SOK SIKERT!



I Tétel (14 pont)



1



2



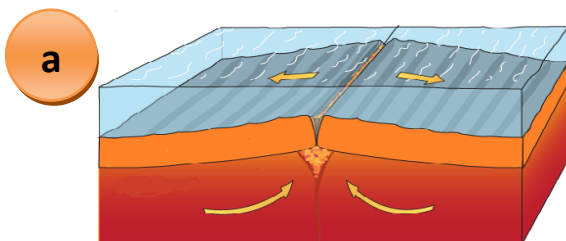
3

Elemeld a fenti képeket és **írd** a vizsgalpra:

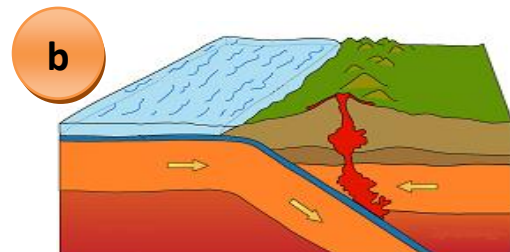
1. az 1-es képen látható csillagkép nevét.
2. a 2-es képen látható égitest nevét és két jellemző tulajdonságát
3. a 3-as képen látható természeti jelenség nevét és kialakulásának két feltételét.

II Tétel (18 pont)

A következő ábrák a kéreglemezek találkozásának két típusát ábrázolják. Elemeld az ábrákat és **írd** a vizsgalpra:



a



b

1. a ábrákon látható két találkozási típus nevét
2. két-két folyamatot amelyek az ábrázolt találkozási övezetkben fordulnak elő
3. a világ három, gyűrődéssel kialakult hegyláncának nevét
4. a világ három működő vulkánjának nevét

III Tétel (21 pont)


Írd a vizsgalpra az alábbi kijelentéseket kiegészítő helyes válaszokat:



1. Annak a vonzóerőnek a neve mellyel a Föld a felszínén levő testekre hat



2. A Naprendszerben a Föld a és bolygók között található.



3. A köpeny felső részének elnevezése



4. A folyóvíz eróziójával kialakult felszíni forma neve



5. A Seychelles-szigetek, melyet tengeri élőlények hoztak létre eredetűek .



6. Az örvénylő, nagy sebességű, nagy károkat okozó szél neve

IV Tétel (22 pont)

Az alábbi térképrészleten a számok (1-5) nagytájukat, a betűk (a-d) helyeket (pontokat) jelölnék. .

A. Írd a vizsgalpra:

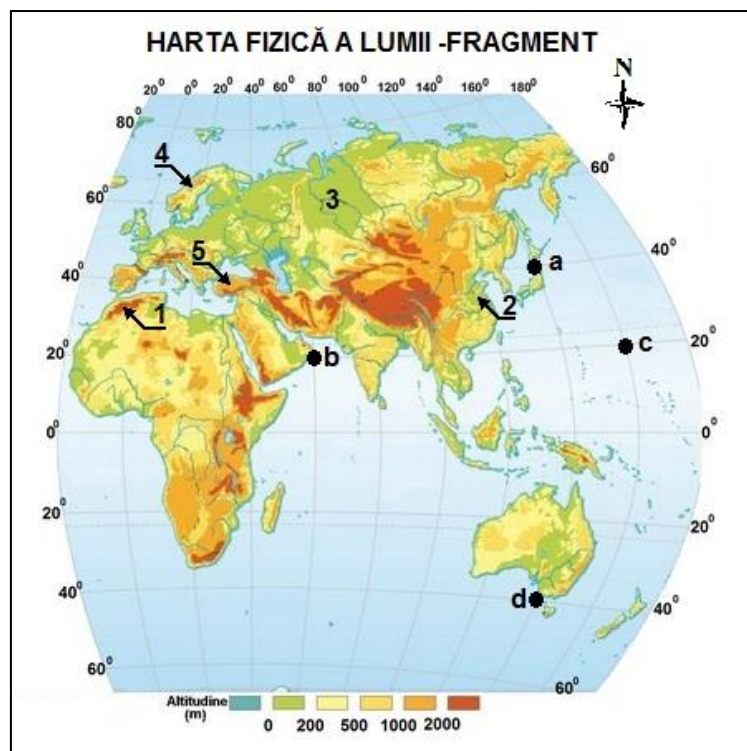
1. az 1, 2 és 3 számokkal jelölt nagytájak nevét;
2. annak a félszigetnek a nevét amelyen az 5 számal jelölt fennsík található
3. egy folyó nevét amely átszeli a 3 számmal jelölt nagytájat.
4. azt a számot amely egy régi, kaledón hegyláncot jelöl.

12 pont

B. Írd a vizsgalpra:

1. az a és b betűkkel jelölt pontok földrajzi koordinátáit.
2. azt a betűt, amely a déli féltekén helyezkedik el
3. az a és d pontok földrajzi szélességei közötti távolságot, fokokban mérve valamint a b és c pontok földrajzi hosszúságai közötti távolságot, fokokban mérve.

10 pont

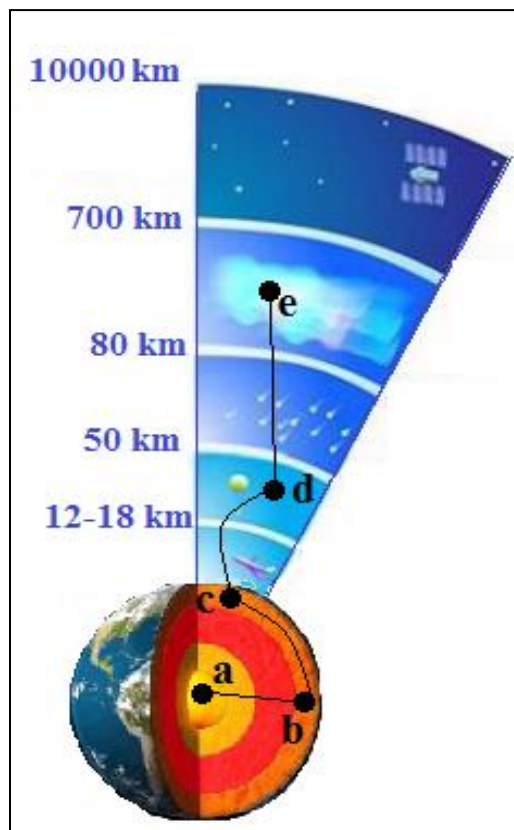


V Tétel (15 pont)

A mellékelt ábra a Föld belső szerkezetét valamint a légkör szerkezetét mutatja. A betűk (a-e) egy olyan képzeletbeli utazás megfigyelési pontjait jelölik amelyen te is résztveszel.

Írd a vizsgalapra:

1. a Föld két belső rétegének nevét, amelyeken az **a** és **b** pontok között áthaladsz
2. a **b** és **c** pontok által jelölt réteg anyagának egy tulajdonságát.
3. a légkör két rétegének nevét, amelyeken az **d** és **e** pontok között áthaladsz;
4. annak a rétegnek a magasságát amelyben madarakkal találkozatsz;
5. azt a betűt amely abban a rétegben található ahol az ózonsztrépa is.
6. az **a** pont által jelölt réteg anyagának egy tulajdonságát



Gratulálok, a feladatlap végére jutottál. Biztosan ügyes voltál és találkozunk az országos szakaszon. Írhatsz concursterra2019@gmail.com e-mail címre .

*Vórlak, szeretettel
Jancsi*