


ROMÂNIA. COORDONATE EUROPENE

Date statistice România:

Suprafața: 238.391 km² (2,3% din suprafața Europei; locul 13 în Europa, inclusiv Turcia);

Populația: 21.698.181 locuitori, în 2002 (3% din pop. Europei, locul 10 în Europa, inclusiv Turcia); 19.042.936 locuitori, în 2012;

Densitatea populației: 91 loc/km² în 2002; 79,8 loc/km² în 2012.

 *Amintește-ți de la lecțiile de la geografie ce știi despre așezarea geografică a României.*

Așezarea pe glob și în Europa

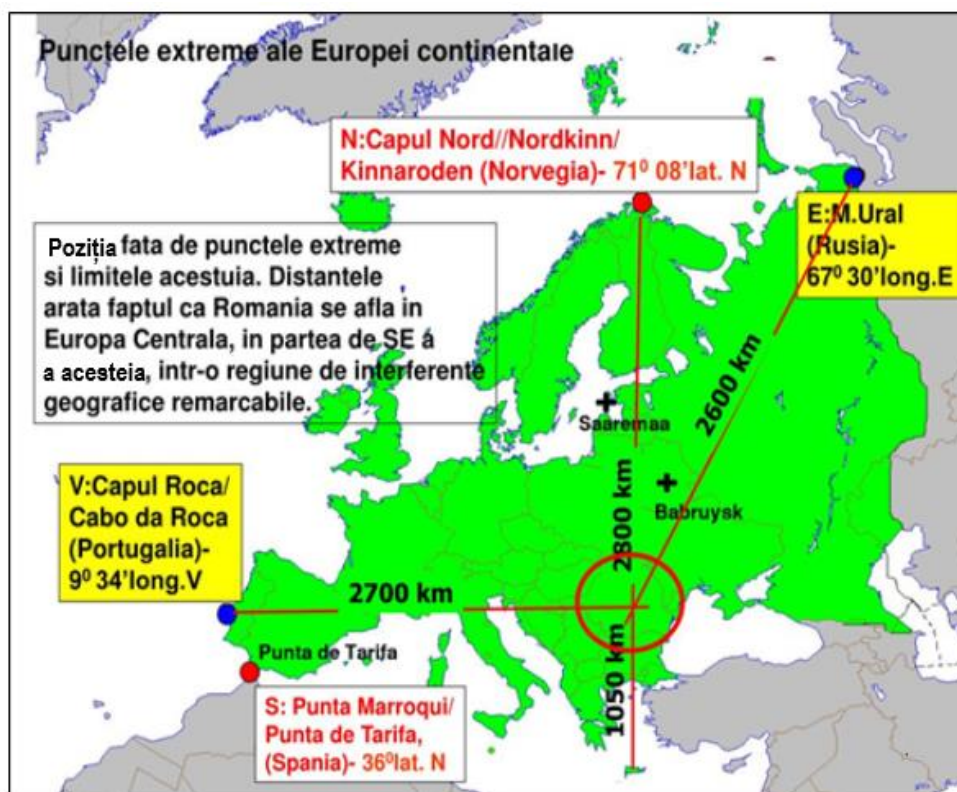
România este situată la intersecția paralelei de 45° lat. N cu meridianul de 25° lat. E, la jumătatea emisferei nordice, în zona temperată.

În Europa, România este situată în partea central-sudică, la distanțe aproximativ egale de extremitățile de V, N și E (2.600-2.800 km) și la circa 1.000 de km de sudul Peninsulei Balcanice (Capul Matapan din Grecia continentală).

În Europa Centrală, România este situată în partea de SE, fiind al treilea stat ca suprafață și populație după Germania și Polonia.



Identifică, pe harta de mai jos, statele europene în care se află situate extremitățile continentului Europa și numește aceste puncte extreme.





Citiți cu atenție textul de mai jos și lista de termeni. Completați spațiile libere cu termenii potriviți din listă, astfel încât propozițiile să fie corecte din punct de vedere științific.

România este situată în1..... la distanță aproximativ egală de2....., la nord, de3....., la vest, de4....., la est și la numai 1.000 de kilometri de5....., la sud. România nu este o țară6..... propriu-zisă, dar este strâns legată de acest spațiu prin relațiile de colaborare cu țările din regiune.

Lista termenilor: Europa de Est, balcanică, emisfera sudică, Europa Centrală, Marea Baltică, Marea Mediterană, Oceanul Arctic, Oceanul Atlantic, Munții Ural, Marea Nordului.

Vecini și frontiere



Identifică, pe harta de mai jos, vecinii României

N: Ucraina – frontieră terestră și fluvială (pe Tisa, Suceava și Prut);

V: Ungaria – frontieră terestră și fluvială pe Mureș;

SV: Serbia – frontieră terestră și fluvială (pe Dunăre, Nera și Caraș);

S: Bulgaria – frontiera terestră și fluvială (pe Dunăre);

E: Republica Moldova – frontieră fluvială pe Prut și pe Dunăre (circa 500 m);
Ucraina – frontieră fluvială pe Dunăre și pe brațul Chilia.

SE: Marea Neagră – ape teritoriale pe 12 mii marine de la țarm, urmate de zona contiguă pe alte 12 mii, care nu aparține teritoriului național, dar asupra căreia statul are drept exclusiv de control militar pentru apărarea suveranității și integrității teritoriale.



Identifică, pe harta de mai jos, punctele extreme ale României. Menționează în care județe se află situate.



Completați afirmațiile de mai jos cu răspunsurile corecte:

- 1 Axa fluviilor și canalelor leagă portul maritim Constanța cu portul maritim
- 2 Extremitatea estică a României se află în localitatea
- 3 Țara vecină cu care România are exclusiv frontieră fluvială se numește
- 4 Cea mai mică lungime a frontierei se află între România și țara vecină numită
- 5 În partea de sud-est, România are deschidere la

Consecințe ale așezării geografice:

- interferența structurilor geologice de platformă ale Europei de Est cu cele de orogen, specifice Europei Centrale;
- climat temperat continental de tranziție, cu interferența mai multor nuanțe climatice: mediteraneene în SV, oceanice în centru și V, scandinavo-baltice în N, continentale în E și SE, pontice pe litoral.
- interferența zonelor biogeografice ale pădurilor de foioase, silvostepii și stepii precum și a solurilor pe care se dezvoltă acestea;
- ora oficială decalată cu două ore înaintea orei GMT, întrucât capitala este situată pe al treilea fus orar spre est;



Scrieți litera corespunzătoare răspunsului corect pentru fiecare dintre afirmațiile de mai jos:

❶ *Suprafața României este de:*

- a.** 238.300 km²; **b.** 245.300 km²; **c.** 283.391 km²; **d.** 238.391 km².

❷ *România este situată la intersecția coordonatelor geografice reprezentate prin:*

- a.** paralela de 45° latitudine nordică și meridianul de 25° longitudine vestică;
b. paralela de 45° latitudine nordică și meridianul de 25° longitudine estică;
c. paralela de 25° latitudine nordică și meridianul de 45° longitudine estică;
d. paralela de 25° latitudine nordică și meridianul de 45° longitudine vestică.

❸ *Extremitatea nordică a țării noastre este localitatea:*

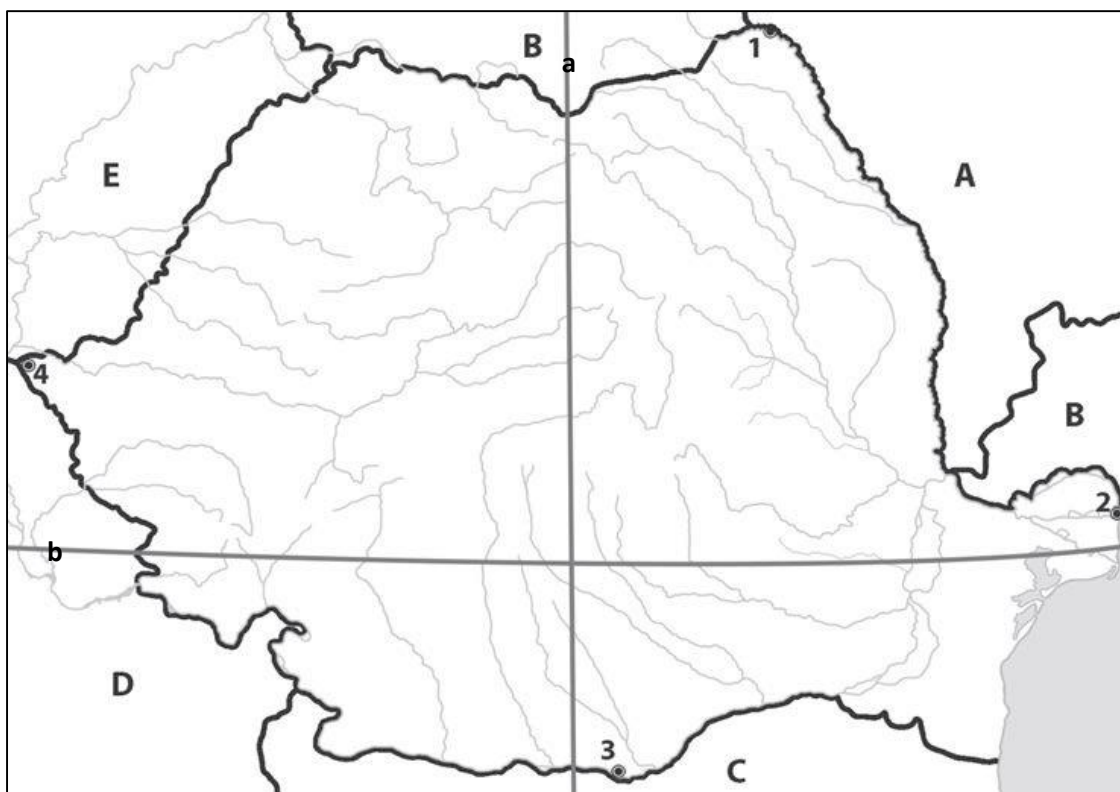
- a.** Halmeu; **b.** Păltiniș; **c.** Horodiștea; **d.** Izvoarele Sucevei.

❹ *Față de Marea Mediterană, România se află la o distanță de:*

- a.** 500 km; **b.** 1.000 km; **c.** 1.500 km; **d.** 2.000 km.



Pe harta de mai jos sunt notate cu cifre extremitățile României, iar cu litere majuscule - țările vecine.



Notează în caiet:

- a. numele localităților marcate, pe hartă, cu cifrele 1, 2, 3 și 4;
- b. numele țărilor vecine marcate, pe hartă, cu litere A, B, C, D și E;
- c. numele țării vecine cu care România are cea mai mare lungime a graniței;
- d. coordonatele geografice reprezentate pe hartă, prin liniile marcate cu literele a și b.



În tabelul de mai jos sunt redate coordonatele geografice ale punctelor extreme din România.

Localitate	Latitudine	Longitudine
Horodiștea	48°14'09"N	26°43'59"E
Sulina	45°09'34"N	29°39'10"E
Zimnicea	43°37'12"N	25°21'51"E
Beba Veche	46°07'55"N	20°17'57"E

<https://ro.wikipedia.org/wiki>

- a. Calculați distanța, în grade, minute și secunde între punctele extreme ale României (N-S pe latitudine și E-V pe longitudine).
- b. Știind că 1° latitudine măsoară 111,13 km, iar 1° longitudine măsoară aproximativ 55 km, calculați distanța în kilometri între punctele extreme lae României (N-S și E-V)

Trăsăturile generale ale României



Privește cu atenție harta de mai jos. Identifică cel puțin trei elemente geografice care definesc România ca stat.



- stat de marime medie în Europa și în UE;
- relief complex ca geneză, evoluție și forme, cu o altitudine medie de 450 m, cu o dispunere proporțională, simetrică și concentrică a reliefului major;
- țară carpatică – peste 54% din suprafața Carpaților; aceștia reprezintă „osatura“ reliefului României, de care depind genetic și evolutiv celelalte unități de relief; impun etajarea biopedoclimatică, delimitează nuanțele climatice, formează un „castel“ de ape, au resurse subsolice și de suprafață, constituind „coloana vertebrală“ pentru formarea poporului român;
- țară dunareană – fluviul curge în România pe 1.087 km, adică 38% din lungimea sa; Dunărea este axa de navigație, sursă de alimentare cu apă, este valorificată hidroenergetic, turistic și piscicol;
- țară pontică – deschidere la Marea Neagră pe circa 244 km, fapt ce facilitează României comerțul internațional prin transporturi maritime, dezvoltarea turismului balneo-maritim, accesul la resursele de hidrocarburi din platforma continentală, pescuitul ș.a.



Amintește-ți de la lecțiile de istorie câteva elemente care definesc spațiul statal românesc.

- stat în curs de dezvoltare, care a trecut la democrație și economie de piață după 1989;
- spațiu al civilizației tracice, geto-dace, daco-romane și românești;
- spațiu dominant al creștinismului ortodox;
- stat constituit în 1859, independent din 1877, regat din 1881, unitate statală desăvârșită în 1918, stat comunist după al Doilea Război Mondial până în 1989, a aderat la NATO în 2004 și la U.E. în 2007;
- stat național unitar organizat administrativ în 42 de județe, inclusiv Municipiul București.



a. Menționați două consecințe ale așezării geografice a României.

b. Explicați afirmația conform căreia România este o țară carpatică, prezentând trei argumente în acest sens.

Link vizionare lecție youtube

<https://www.youtube.com/watch?v=Pse71KXvXUI&list=PLYNyMo1XYP61K0k3fIAMvNgeKaPVAHcg&index=1>

prof. Adriana Mioara Dincă – Liceul de Artă Sibiu

prof. Constantin Dincă – ISJ Sibiu/Liceul Teoretic ”Onisifor Ghibu” Sibiu